

سلاح التنظيم

منذ عام ١٩٦٠

الدراسات الاجتماعية

اختبارات على الفصل الدراسي الأول



2022 - 2021

الصف الرابع الابتدائي

4

السؤال الأول أكمل العبارات التالية بما يناسبها من كلمات:

- ١ لُقِبَ محمد طلعت حرب باشا بـ
- ٢ أكدت المادة (٨٠) من الدستور على الأطفال.
- ٣ تُعد محافظتك جزءًا من البيئة
- ٤ سُميت الصحراء السوداء بهذا الاسم لأن سطحها يغطيه بقايا

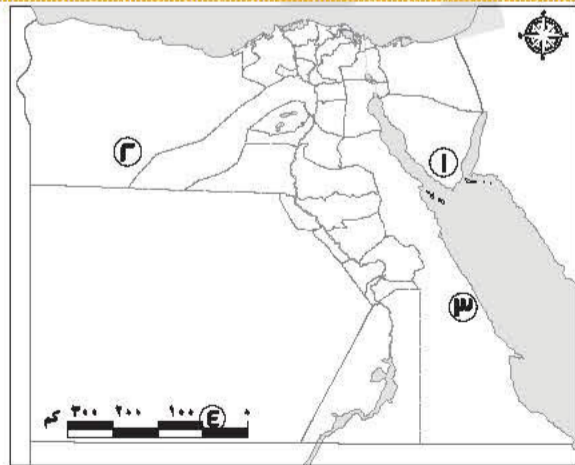
السؤال الثاني اكتب كلمة (صواب) أمام العبارة الصحيحة، وكلمة (خطأ) أمام العبارة غير الصحيحة:

- ١ الصورتان الجوية والفضائية مختلفتان. ()
- ٢ يختلف مناخ مصر عن مالوي. ()
- ٣ جميع الموارد الطبيعية متجددة. ()
- ٤ يزيد الادخار كلما زاد معدل الاستهلاك. ()

السؤال الثالث اختر الإجابة الصحيحة مما بين القوسين:

- ١ يعد المحيط الهادي جزءًا من
(الماء - التلال - الجبال - الهضاب)
- ٢ يدل النسر الذهبي في علم مصر على
(دماء الشهداء - ظلم الاستعمار - القوة - التضحية)
- ٣ توجد السهول الفيضية في البيئة
(الساحلية - الزراعية - الصحراوية - الصناعية)
- ٤ تسعى الدولة المصرية لحماية البيئة فأطلقت مبادرة
(نور الحياة - حياة كريمة - اتحضر للأخضر - قادرون باختلاف)

السؤال الرابع أمامك خريطة صماء لمصر، اكتب مدلول الأرقام عليها:



محافظات مصر

- ١ جبل
- ٢ البيئة
- ٣ مكان يُستخرج منه معدن
- ٤ أحد عناصر الخريطة



١) وضح كيف يمكنك ترشيد استهلاك المياه.

.....
.....
.....

٢) ما النتائج المترتبة على حفر قناة السويس الجديدة؟ (يكتفى باثنتين)

.....
.....
.....

٣) فسر سبب تنوع سطح مصر.

.....
.....
.....

٤) صنف الأماكن التالية حسب نوع الخدمة.

(هيئة المصل واللقاح - المتحف المصري - قسم الشرطة)

خدمة أمنية	خدمة صحية	خدمة ترفيهية وثقافية



السؤال الأول أكمل العبارات التالية بما يناسبها من كلمات:

- ١ نحدد الاتجاه الصحيح على الخريطة باستخدام
- ٢ التعبير عن وجهات النظر الشخصية والتي قد تكون صحيحة أو خطأ يسمى
- ٣ أنشأت الدولة مدينة لصناعة الجلود في
- ٤ تنتشر مناجم الحديد في الصحراء

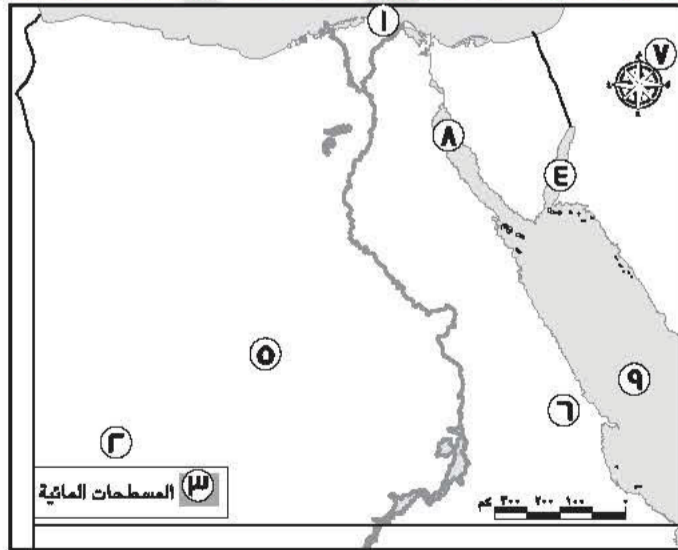
السؤال الثاني اكتب كلمة (صواب) أمام العبارة الصحيحة، وكلمة (خطأ) أمام العبارة غير الصحيحة:

- ١ ظهرت مهنة مُشغّل المحولات الهاتفية مع ظهور الهواتف الذكية. ()
- ٢ أقر طه حسين حق التعليم المجاني لكل المصريين. ()
- ٣ يلون منخفض القطارة على الخريطة باللون البنّي الفاتح. ()
- ٤ تساهم العاصمة الإدارية في تخفيف الضغط عن محافظة القاهرة. ()

السؤال الثالث اختر الإجابة الصحيحة مما بين القوسين:

- ١ إحدى قارات العالم الجديد وتقع جنوب آسيا
(أوروبا - أمريكا الشمالية - أمريكا الجنوبية - أستراليا)
- ٢ يقع بحر الرمال في البيئة
(الساحلية - الزراعية - الصحراوية - الصناعية)
- ٣ أحد مصادر الطاقة التي تنفذ باستخدامنا لها
(الرياح - الشمس - البترول - الأمواج)
- ٤ البنك المسئول عن إصدار النقود الورقية هو
(بنك مصر - بنك القاهرة - البنك المركزي المصري - البنك العربي الإفريقي)

السؤال الرابع لاحظ الخريطة التالية واختر الرقم الدال على كل جملة:



جمهورية مصر العربية

- ١ أصغر محافظات مصر مساحة رقم (.....)
- ٢ هضبة الجلف الكبير رقم (.....)
- ٣ خليج السويس رقم (.....)
- ٤ الصحراء الغربية رقم (.....)



(يكتفى باثنين)

١ كيف يمكنك تقييم المعلومات التي تجدها في كتاب ما ؟

٢ حدد اثنين من الأنشطة الاقتصادية التي تتأثر بحالة الطقس.

٣ فسر سبب ظهور السحابة السوداء.

٤ وضح كيف تهتم الدولة بالحرف التراثية.

التعليم



السؤال الأول أكمل العبارات التالية بما يناسبها من كلمات:

- ١ تدخل الرمال البيضاء في صناعة الزجاج و
- ٢ يُلون جبل "كليمنجارو" على خريطة التضاريس باللون
- ٣ أنشأ بنك مصر عام ١٩٢٠ م.
- ٤ يريد أحد السياح التمتع بالشعاب المرجانية في مصر، إذن فعليه زيارة سواحل

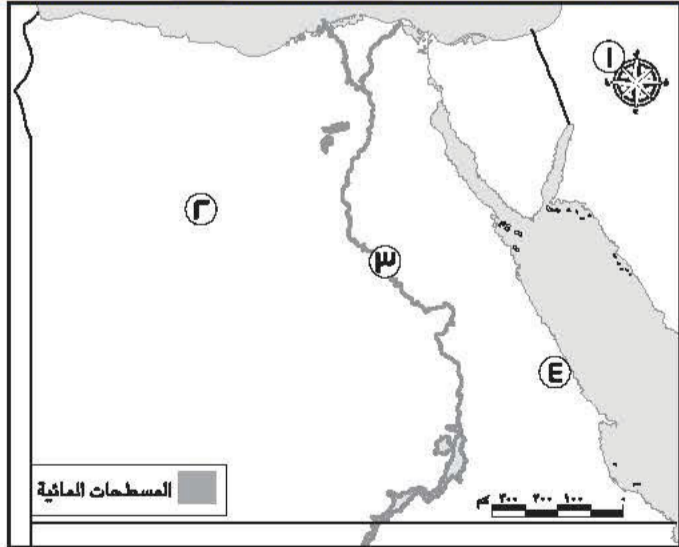
السؤال الثاني اكتب كلمة (صواب) أمام العبارة الصحيحة، وكلمة (خطأ) أمام العبارة غير الصحيحة:

- ١ يجب أن أحافظ على نظافة البيئة التي أعيش فيها. ()
- ٢ تُعد لوحة نارمر أحد المصادر الثانوية التي يمكن الاعتماد عليها. ()
- ٣ أوروبا هي مساحة واسعة من اليابس تضم عددًا من الدول بداخلها. ()
- ٤ طه حسين هو أحد الشخصيات الشهيرة التي تكلمت عن أهمية موقع مصر الجغرافي. ()

السؤال الثالث اختر الإجابة الصحيحة مما بين القوسين:

- ١ البنك المسئول عن إصدار النقود في مصر هو
(البنك المركزي المصري - بنك مصر - بنك القاهرة - البنك التجاري الدولي)
- ٢ أحد المنتجات التي نحصل عليها من مدينة الروبيكي هي
(حذاء جلدي - قُلة فخار - سجادة يدوية - سلة خوص)
- ٣ من مصادر الطاقة التي لا تنفذ بكثرة استخدامنا لها
(البتترول - الفحم - الشمس - الغاز الطبيعي)
- ٤ يمكنك معرفة اتجاه الرياح في محافظتك باستخدام
(الترمومتر - دوارة الرياح - الأنيموميتر - مقياس المطر)

السؤال الرابع لاحظ الخريطة التالية، ثم أجب:



جمهورية مصر العربية



- ١ أحد عناصر الخريطة
- ٢ معدن ينتشر في الصحراء الغربية
- ٣ مجرى من الماء العذب
- ٤ البيئة

١ صنف الأماكن التالية حسب نوع الخدمة التي تقدمها: (جامعة القاهرة - ساقية الصاوي - قسم شرطة قصر النيل)

خدمة أمنية	خدمة تعليمية	خدمة ثقافية

٢ حدد مظهرين من مظاهر احتفال محافظتك بالعيد القومي.

.....

.....

.....

٣ وضح سبب وجود النسر وسط علم مصر.

.....

.....

.....

٤ وضح أهمية الخريطة للسائحين.

.....

.....

.....



السؤال الأول أكمل العبارات التالية بما يناسبها من كلمات:

- ١ تقع مصر في الركن الشمالي الشرقي لقارة
- ٢ يرتبط العيد القومي لمحافظة بذكرى
- ٣ يقوم خبراء الأرصاد الجوية بقياس سرعة الرياح باستخدام جهاز
- ٤ أحد النماذج المشرفة لذوي الاحتياجات الخاصة، وأقر مجانية التعليم هو الدكتور

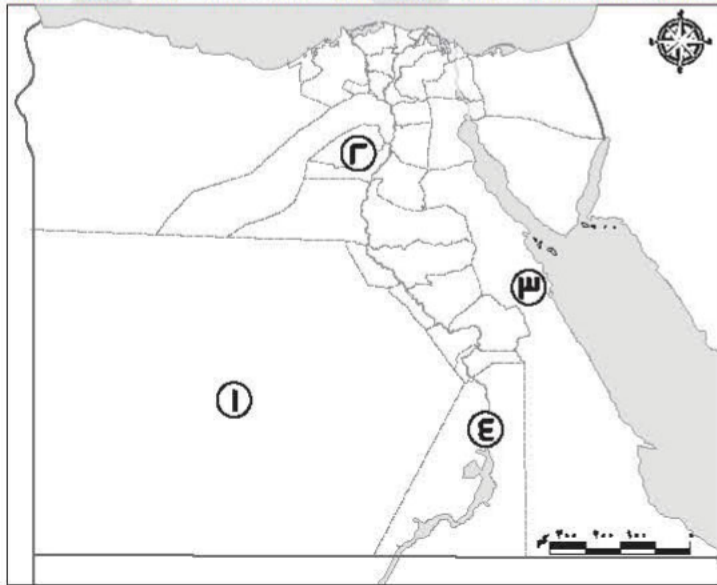
السؤال الثاني اكتب كلمة (صواب) أمام العبارة الصحيحة، وكلمة (خطأ) أمام العبارة غير الصحيحة:

- ١ تُعتبر بردية إيبريس في الطب مصدرًا أوليًا. ()
- ٢ يتوسط علم مصر نسر لونه أحمر يدل على قوة مصر وعراقة حضارتها. ()
- ٣ الاستخدام السيئ للطاقة المتجددة يعرضها للتلوث. ()
- ٤ تقل نسبة تلوث الهواء في القاهرة. ()

السؤال الثالث اختر الإجابة الصحيحة مما بين القوسين:

- ١ تقوم الزراعة على المياه الجوفية في
(وادي النيل - الصحراء الغربية - منخفض الفيوم - دلتا النيل)
- ٢ أدى التقدم الإعلامي بداية القرن العشرين إلى اختفاء وظيفة
(المنادي ناقل الأخبار - بائع الصحف والمجلات - محرر صحفي بجريدة - مسئول طباعة الجرائد)
- ٣ إحدى الحرف التراثية المنتشرة في منطقة الأزهر بالقاهرة هي
(الزجاج - السجاد اليدوي - الخيامية - الفخار)
- ٤ تُعتبر سيارة الإسعاف من الخدمات
(الأمنية - التعليمية - الثقافية - الصحية)

السؤال الرابع أمامك خريطة صماء لمصر، اكتب مدلول الأرقام عليها:



محافظة مصر

- ١ محافظة
- ٢ بيئة
- ٣ جبل
- ٤ السد



١ حدد اثنين من أهم أعمال محمد طلعت باشا حرب.

٢ ما هو واجبك تجاه أفراد أسرتك؟

٣ ما أوجه التشابه بين البنوك المصرية والبريد المصري؟

٤ هات دليلاً على صحة هذه العبارة: كان جمال حمدان عالماً جغرافياً محباً لوطنه.

التشابه بين



السؤال الأول أكمل العبارات التالية بما يناسبها من كلمات:

- ١ النشيد الوطني الرائع لبلادنا مصر هو من ألحان الفنان المبدع
- ٢ تعد محافظتك من محافظات
- ٣ يتسبب حرق قش الأرز في تلوث
- ٤ دراسة حالة الجو العام الماضي هي دراسة لحالة

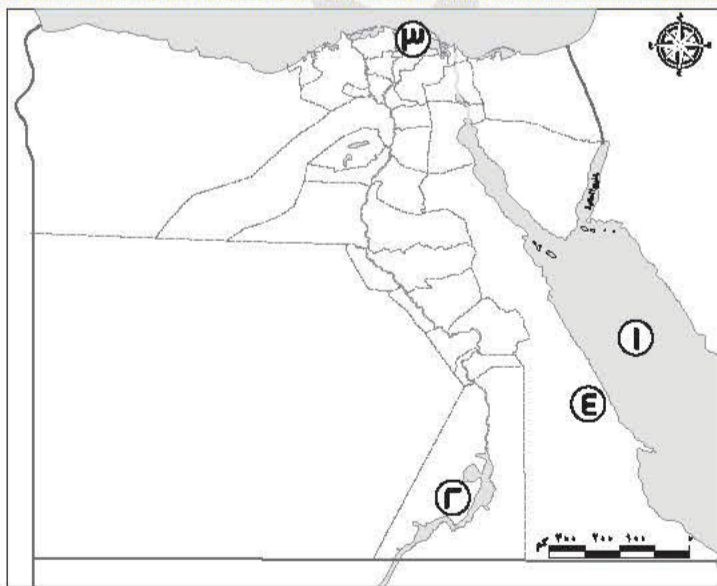
السؤال الثاني صوب ما تحته خط:

- ١ أقر طه حسين التعليم المدفوع.
- ٢ الراية التي تعبر عن محافظتي تسمى علمًا.
- ٣ تربط قناة سيزوستريس حاليًا بين البحرين الأحمر والمتوسط.
- ٤ مؤلف كتاب شخصية مصر هو طلعت حرب.

السؤال الثالث اختر الإجابة الصحيحة مما بين القوسين:

- ١ نرسم للشهداء في علم مصر باللون
- (الأحمر - الأبيض - الأسود - الذهبي)
- ٢ "شواطئ مرسى علم هي أجمل شواطئ مصر" تعبر العبارة السابقة عن
- (حقيقة - رأي - خيال - قصة)
- ٣ البيئة الأكبر مساحة في مصر هي البيئة
- (الزراعية - الصحراوية - الصناعية - الساحلية)
- ٤ تتعدد الجهود الدولية لحماية الأطفال ومنها
- (مبادرة ١٠٠ مليون صحة - قانون الطفل المصري - اتفاقية حقوق الطفل - مبادرة حياة كريمة)

السؤال الرابع أمامك خريطة صماء لمصر، لاحظها ثم أجب:



محافظات مصر

- ١ يشير رقم (.....) لمنطقة لاستخراج الذهب.
- ٢ يشير رقم (.....) لقرية جراح بمحافظة الدقهلية.
- ٣ يشير رقم (.....) للبحر الأحمر.
- ٤ يشير رقم (.....) لأكبر البحيرات الصناعية في العالم.



١ لماذا تعد الخريطة مهمة لبعض الطيارين؟

٢ بم تفسر : أهمية البنك المركزي المصري؟

٣ ما العلاقة بين التكنولوجيا وتطور الوظائف في المستقبل؟

٤ ما الفرق بين الجزيرة والبحيرة؟

البحيرة	الجزيرة



سلاح التنظيم

منذ عام ١٩٦٠

الدراسات الاجتماعية

الإجابات النموذجية على اختبارات الفصل الدراسي الأول



2022 - 2021

الصف الرابع الابتدائي

4

إجابة الاختبار ١

السؤال الأول:

- ١ أبي الاقتصاد المصري.
٢ حقوق.
٣ تُترك للتلميذ حسب محافظته.
٤ الحمم البركانية.

السؤال الثاني:

- ١ صواب.
٢ صواب.
٣ خطأ.
٤ خطأ.

السؤال الثالث:

- ١ الماء.
٢ القوة.
٣ الزراعية.
٤ اتحضر للأخضر.

السؤال الرابع:

- ١ سانت كاترين.
٢ الصحراوية.
٣ الذهب.
٤ مقياس الرسم.

السؤال الخامس:

- ١ اجابة استرشادية: يمكنني غلق صنوبر المياه أثناء تنظيف أسناني.
٢ اجابة استرشادية:
- تقليل زمن مرور السفن.
- السماح بمرور السفن في الاتجاهين.
٣ لأنه يتنوع بين المناطق المرتفعة والمناطق السهلية والمناطق المنخفضة.
٤

خدمة أمنية	خدمة صحية	خدمة ترفيهية وثقافية
قسم الشرطة	هيئة المصل واللقاح	المتحف المصري



السؤال الأول:

- ١ ورده البوصلة.
٢ رأي.
٣ الروبيكي بمدينة بدر.
٤ الغربية.

السؤال الثاني:

- ١ خطأ.
٢ صواب.
٣ خطأ.
٤ صواب.

السؤال الثالث:

- ١ أستراليا.
٢ الصحراوية.
٣ البترول.
٤ البنك المركزي المصري.

السؤال الرابع:

- ١ (١)
٢ (٢)
٣ (٨)
٤ (٥)

السؤال الخامس:

- ١ - إجابة استرشادية: عن طريق:
- معرفة اسم المؤلف وتخصصه ومكانته العلمية.
- التأكد من مشاركة وقت حدوث الحدث.
٢ إجابة استرشادية: الزراعة - النقل.
٣ بسبب حرق قش الأرز.
٤ تقوم الدولة برعاية مصالح العمال.
- إجابة استرشادية: تسويق المنتجات عن طريق المعارض والمهرجانات.
- إعداد البرامج التدريبية.
- إنشاء مدن مُخصصة لبعض الصناعات.



السؤال الأول:

- ١ الخليا الشمسية.
٣ طلعت حرب.

- ٢ البُني.
٤ البحر الأحمر.

السؤال الثاني:

- ١ صواب.
٣ صواب.

- ٢ خطأ.
٤ خطأ.

السؤال الثالث:

- ١ البنك المركزي المصري.
٣ الشمس.

- ٢ حذاء جلدي.
٤ دوارة الرياح.

السؤال الرابع:

- ١ وردة البوصلة.
٣ نهر النيل.

- ٢ الحديد.
٤ الساحلية.

السؤال الخامس:

- ١

خدمة أمنية	خدمة تعليمية	خدمة ثقافية
قسم شرطة قصر النيل	جامعة القاهرة	ساقية الصاوي

- ٢ إجابة استرشادية: تزيين الشوارع - رفع علم مصر وشعار المحافظة.
٣ لأن النسر يرمز إلى قوة مصر وعراقة حضارتها.
٤ يستخدمها السائحون للوصول إلى الأماكن الأثرية والسياحية.



إجابة الاختبار ٤

السؤال الأول:

- ١ إفريقيا. ٢ يجيب عنها التلميذ بحسب محافظته.
٣ الأنيمومتر. ٤ طه حسين.

السؤال الثاني:

- ١ صواب. ٢ خطأ.
٣ صواب. ٤ خطأ.

السؤال الثالث:

- ١ الصحراء الغربية. ٢ المنادي ناقل الأخبار.
٣ الخيامية. ٤ الصحية.

السؤال الرابع:

- ١ الوادي الجديد. ٢ زراعية.
٣ شايب البنات (الشايب). ٤ وردة البوصلة.

السؤال الخامس:

- ١ إجابة استرشادية: أسس بنك مصر عام ١٩٢٠م - ألف العديد من الكتب التي ناقشت بعض قضايا مصر والعالم الإسلامي.
٢ إجابة استرشادية: أن أساعدهم في أعمال المنزل.
٣ إجابة استرشادية: كلاهما يقدم خدمات مالية وكلاهما منتشر في أنحاء الجمهورية.
٤ إجابة استرشادية: حيث قدم كتابه الرائع "شخصية مصر" والذي يتحدث فيه عن مميزات موقع مصر الجغرافي بشيء من التفصيل، والذي احتاج لإتمامه إلى عشر سنوات من العمل والجهد مما يدل على مثابرته من أجل تحقيق هدفه وبالتالي حبه لوطنه مصر .



السؤال الأول:

- ١ سيد درويش.
٢ يجيب التلميذ بحسب محافظته بإحدى هذه الإجابات (الوجه البحري - الوجه القبلي - الحدود).
٣ الهواء.
٤ المناخ.

السؤال الثاني:

- ١ المجاني.
٢ شعار.
٣ السويس.
٤ جمال حمدان.

السؤال الثالث:

- ١ الأحمر.
٢ رأي.
٣ الصحراوية.
٤ اتفاقية حقوق الطفل.

السؤال الرابع:

- ١ (٤)
٢ (٣)
٣ (١)
٤ (٢)

السؤال الخامس:

- ١ إجابة استرشادية: لأنها تساعدهم في تحديد المواقع ومعرفة خط سير الطائرات.
٢ حيث يقوم بإصدار النقود، والإشراف على جميع البنوك المصرية، والإشراف على المؤسسات المصرفية الأخرى بما في ذلك البريد المصري.
٣ إجابة استرشادية: أدى التطور التكنولوجي إلى استحداث مهن جديدة مثل متخصصي الذكاء الاصطناعي وذلك بسبب الحاجة إلى استخدام الروبوت.
٤

البحيرة	الجزيرة
هي مساحة من المياه يحيط بها اليابس من جميع الجهات.	هي مساحة من الأرض تحيط بها المياه من جميع الجهات.

